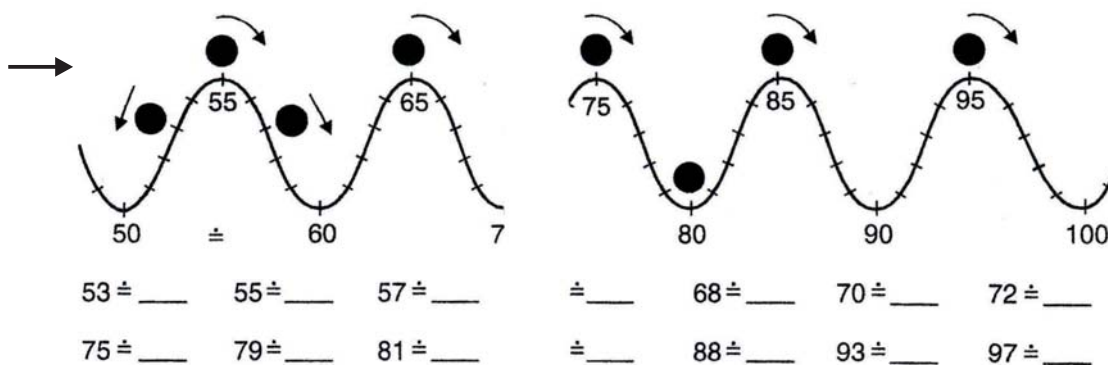
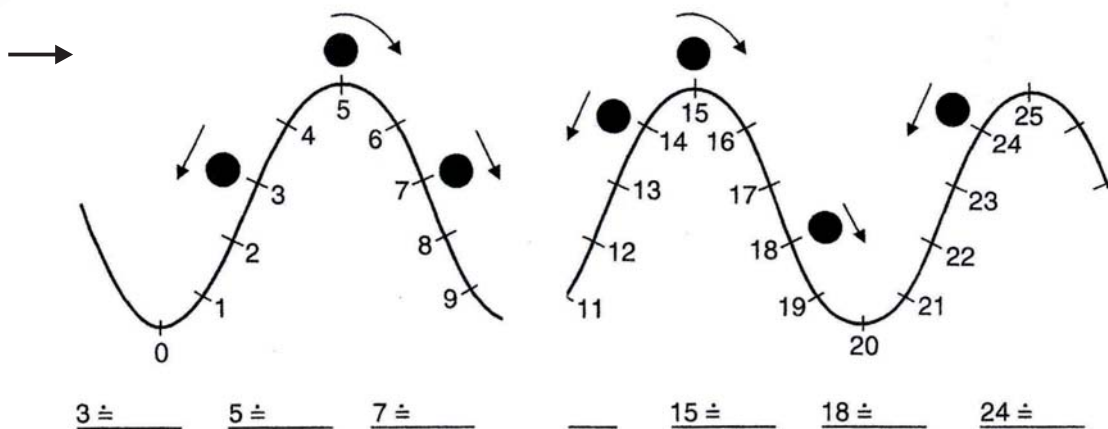


Zaokrouhlování

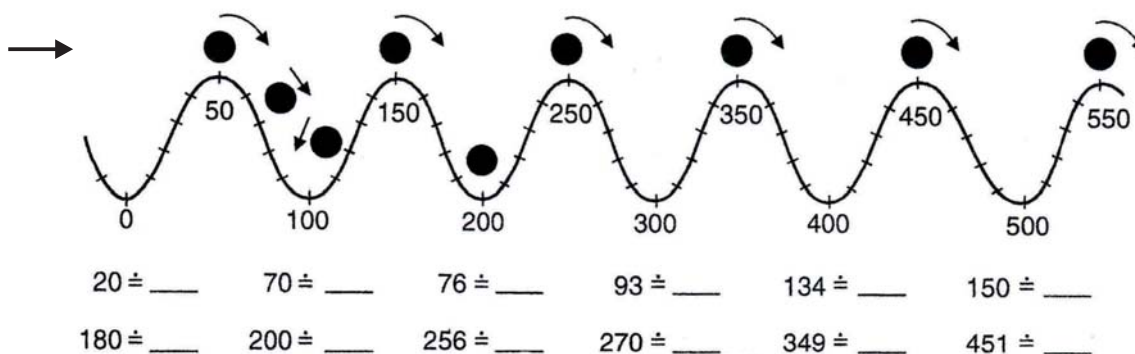
1. **Zaokrouhli na desítky.** V úloze Ti pomůže padající míček na zakřivené číselné ose. Zleva fouká vítr, a proto míčky na vrcholech padají doprava.



Napiš všechna čísla, která se po zaokrouhlení na desítky rovnají 70:

.....

2. **Zaokrouhli na stovky.**



Napiš alespoň sedm čísel, která se po zaokrouhlení na stovky rovnají 300:

.....

3. **Zaokrouhli na stovky.** 560 ≐ _____ 635 ≐ _____ 656 ≐ _____ 701 ≐ _____ 934 ≐ _____

4. Zaokrouhli na tisíce.

14 600 ÷ _____ 14 734 ÷ _____ 15 210 ÷ _____

15 569 ÷ _____ 17 698 ÷ _____ 24 956 ÷ _____

234 681 ÷ _____ 836 500 ÷ _____ 699 902 ÷ _____

485 501 ÷ _____ 701 999 ÷ _____ 501 101 ÷ _____

5. Zaokrouhli na tisíce dle vývojového diagramu.

x	14 600	14 734	15 210	15 569	17 698	24 956
y						

6. Sestav vývojový diagram pro zaokrouhlování na desetitisíce. (Na volný papír)