


Jméno: _____




Ryby

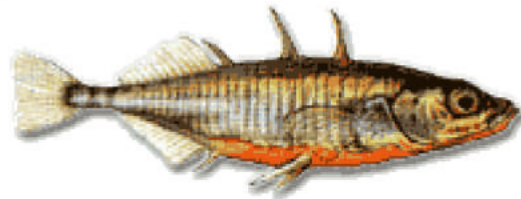
Určitě znáte spoustu ryb, které žijí v našich sladkých vodách. Mám tu pro Vás ale dvě, které jsou velmi zajímavé především svými názvy. Dokážete spojit název, obrázek a charakteristiku dvou rybek? Název zjistíte, když správně vypočítáte příklady a dosadíte písmena místo výsledků.

72 37 74 27 45 17 45 19
19 45 15 39 38 19 46 32


12 36 28 45 13 25 48 19
38 48 12 37 29 25 07 34



A Obývá místy stojaté a mírně tekoucí vody.
 Na našem území ji pravděpodobně vysadili akvaristé.
 Bez hospodářského významu.
 Po výtěru samec hlídá jikry.
 Na bocích má až 35 kostěných štítků.
 Loví se do čeřítku.



B Nepůvodní druh, dovezen v r. 1890.
 Žije ve stojatých vodách s bahnitým dnem (tůň, ramena).
 Bez většího významu.
 Místy je loven sportovními rybáři.
 Jikry ukřívá v jamce.
 Průměrná váha lovených ryb mezi 0,15-0,25 kg.



28 46 15 43 19 29 47
14 37 17 34 43 48 44

18 16 49 09 19 41 18 27
33 16 28 12 07 39 73 37

21 = R 36 = Š 50 = T 55 = N 66 = J 80 = C 89 = L
 26 = I 40 = Í 51 = A 62 = Č 77 = E 83 = U 91 = K
 32 = M 42 = S 53 = Á 64 = Ý 82 = O 84 = Ř